

ESTUDO EM CASA – DISTANCIAMENTO SOCIAL – COVID 19
TRABALHO DE MATEMÁTICA – 7º ANO A, B e C – 05 AULAS
25º SEMANA: DE 05/10/2020 a 09/10/2020– 3º BIMESTRE
Prof.ª Gabriela Pimenta Barbosa Mendes - manhã
Prof. Henrique Alves Bueno - tarde

Orientações:

- O trabalho pode ser copiado ou impresso. Atenção sua resposta final deverá ser a caneta;
- Deve constar no trabalho **NOME, NÚMERO, SÉRIE “ANO” e NOME DA PROFESSORA**, sob pena de não ser corrigido por falta de informações indispensáveis para a correção do mesmo;
- O trabalho **DEVE SER ENTREGUE** até dia 13/10/2020 na escola; Ele irá compor a nota do 3º bimestre. E a não realização acarretará em dano considerável a nota do aluno.

Querido aluno (a), é necessário que os cálculos sejam registrados.

NOME: _____ **Nº** _____ **7º ano** _____

Professor(a): _____ **Valor: 8,0 pontos** **NOTA:** _____

TRABALHO DE MATEMÁTICA - 3º BIMESTRE

1) Qual a representação algébrica da situação: (1,0 pontos)

A) o triplo de um número menos dez: _____.

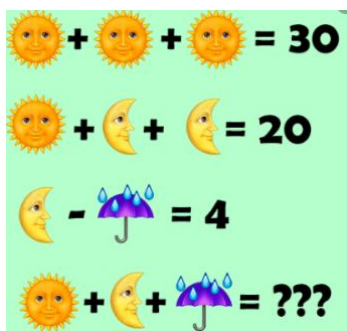
B) a quarta parte de um número adicionado a 6: _____.

2) Calcule o valor numérico das expressões. (2,0 pontos)

a) $3x + 3$, para $x = 2$

b) $5x - 6$, para $x = 3$.

3) Observe as figuras abaixo, e responda qual é o valor? (1,0 pontos)



Valor do sol = _____,

Valor da lua = _____,

Valor do guarda-chuva = ____

e valor da  = ____.



PREFEITURA MUNICIPAL DE RIBEIRÃO CORRENTE
DEPARTAMENTO DE EDUCAÇÃO

E.M.E.B. "JORNALISTA GRANDUQUE JOSÉ"

Rua Marechal Deodoro, 815 – Bairro Centro – Ribeirão Corrente - SP. CEP: 14445-000 - Fone: (16) 3749.1017

Ato de Criação: Lei Municipal Nº 986, de 20 de março de 2008

Email - granduquejose@educacao.sp.gov.br

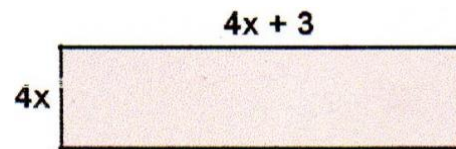

4) Dê dois exemplos de termos semelhantes? (1,0 pontos)

a) _____

b) _____

5) Simplificação a expressão algébrica: $3x^3 + 7y^2 + 6x^3 + 5y^2$? (1,0 pontos)

6) Qual é o valor do perímetro dos retângulos abaixo:(2,0 pontos)



Bom trabalho!